

**Materiály pro výuku zeměpisu u žáků se specifickými  
poruchami učení**

# **JIŽNÍ AMERIKA**



**Vypracovala: Bc. Veronika Krejsová  
Brno, 2013**

## **Obsah**

Obsah.....	1
Vysvětlivky .....	2
Povrch.....	3
Podnebí a přírodní krajiny .....	4
Vodstvo .....	5
Obyvatelstvo.....	6
Regiony Jižní Ameriky.....	7
Andské státy .....	8
Brazílie a její sousedé.....	9
Země Jižního rohu .....	10
Doplňující úkoly a otázky: .....	12
Shrnutí .....	16
Použité zdroje.....	20

## Vysvětlivky

V následujícím textu se budete pravidelně setkávat s těmito symboly. Označují činnost, pro kterou je část materiálu určena.

Jsou to tyto 3 *symboly*:



- Takto, spolu se žlutě zvýrazněnými nadpisy, najdete označený text obsahující probírané učivo.



- Tento symbol najdete u otázek a úkolů, které jsou zvýrazněny červeně jako tento rámeček. Odpovědi na tyto otázky většinou najdete v textu nad nimi. Správné odpovědi vždy barevně v textu vyznačte a popřípadě doplňte požadované informace.



- Tímto symbolem a modrou barvou jsou označeny další otázky a úkoly k tématu. Ty ale již nebudete v textu nikde vyznačovat.

# JIŽNÍ AMERIKA



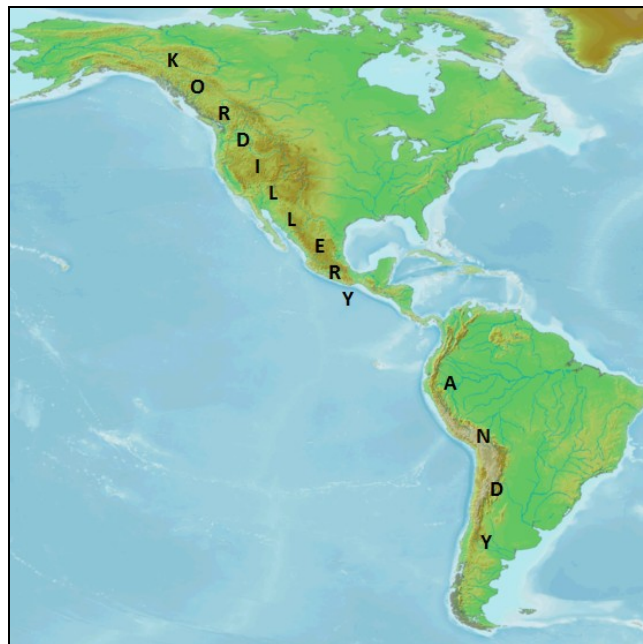
Jižní Amerika je spolu se Severní Amerikou *součástí kontinentu Amerika*. Tento kontinent je *druhý největší na světě* (po Eurasii) a leží *na západní polokouli*.

Jižní Amerika je sice spojená s Amerikou Severní, ale liší se navzájem přírodními podmínkami, obyvatelstvem i kulturou.



## Povrch

Pohoří *Kordillery*, dlouhé celkem 15 tisíc kilometrů, najdeme i v Jižní Americe. Zde se mu říká *Andy*. Andy jsou *užší* než severoamerické Kordillery a dosahují *vyšších nadmořských výšek*. Najdeme zde nejvyšší horu celé Ameriky – jmenuje se *Aconcagua* [akonkagva].



Stejně jako v Severní Americe se v západní části kontinentu nachází pohoří. Směrem na východ přibývá *více rovin*, ale i *nížin*. Nížiny většinou leží kolem povodí velkých řek. Mezi nejznámější nížiny patří *Amazonská*, *La Platská* a *Orinocká*.

Jižní Amerika má *ostrovy*. Ty se nachází na jihu kontinentu, kterému se říká *Patagonie*. Zde díky činnosti ledovců vznikla spousta ostrovů, ale i zálivů a fjordů.



**Otázky a úkoly** (správné odpovědi barevně podtrhni nebo zvýrazni v textu nahoře, případně dohledej a doplň chybějící údaj):

- Jak se jmenuje pohoří, které se táhne přes celou Jižní Ameriku?
- Jak se říká oblasti na jihu kontinentu, jaký je tam povrch?
- Jaké je jméno nejvyšší hory v Andách? Najdi v atlase, kolik měří metrů: \_\_\_\_\_

Porovnej výšku této hory s nejvyšší horou Severní Ameriky:

nejvyšší hora Severní Ameriky je \_\_\_\_\_ a měří \_\_\_\_\_ metrů – je menší o \_\_\_\_\_ metrů než nejvyšší hora Jižní Ameriky.



### Podnebí a přírodní krajiny

Velká část Jižní Ameriky leží **ve vlhkých tropech**. Průměrná roční teplota je 25 °C. V oblasti kolem rovníku, kde často (téměř denně) prší, díky této teplotě vznikl **největší deštný les** na celé planetě – jmenuje se **Amazonie, Amazonský prales**. Žije v něm mnoho druhů živočichů a rostlin. V současnosti je velkým ekologickým problémem **kácení** tohoto deštného lesa.

Amazonský deštný les na svých krajích se postupně mění v **savany** a **řidké lesy**. Zde žijí například tapír, tukan a jaguár. Směrem na jih se objevují **stepi – pampy**, kde žijí převážně obrovská stáda hovězího dobytka.

Podnebí And je závislé nejen na zeměpisné šířce, ale i na nadmořské výšce. Proto je v tropické oblasti ve výškách 2 000 m. n. m. příjemnější podnebí než v nížinách. Více lidí tedy žije ve vyšších nadmořských výškách kvůli příjemnějšímu podnebí. V Andách patří mezi známá zvířata lamy – často jsou chovány indiány jako užitková zvířata.

Na jihu kontinentu **lesy mírného pásu** přechází v **nehostinné studené pustiny**. Jižní části kontinentu se říká Patagonie, zde na pobřeží žijí lachtani nebo tučňáci.

Pobřeží Jižní Ameriky a jeho podnebí na některých územích je ovlivněno i **mořskými proudy**. Studené mořské proudy způsobují ochlazování a vysoušení pevniny, teplé proudy způsobují srážky a teplejší podnebí.



### Otázky a úkoly:

- Jaké všechny druhy a typy přírodních krajin lze v Jižní Americe najít? Jaká zvířata tam žijí?
- Co ovlivňuje podnebí na některých místech pobřeží? Jak se to projevuje?
- Jak se jmenuje největší deštný les? Které rostliny a živočichy v něm můžeme najít? (zkus dohledat doma pomocí internetu nebo encyklopedií) \_\_\_\_\_

Jaký velký ekologický problém současnosti se týká těchto deštných lesů? Proč si myslíš, že je to obrovským problémem? \_\_\_\_\_



### Vodstvo

Jižní Amerikou protéká největší řeka světa – **Amazonka**. Pramení v **Andách**, má mnoho přítoků.

Velkou řekou v Jižní Americe je i řeka **Paraná**. Ta spolu s řekou **Uruguay** [urugvaj] tvoří společné ústí **La Plata** ve stejnojmenné nížině (La Plata).

V Jižní Americe jsou také **vodopády** – nejvyšší vodopád světa **Salto Angel** v Guyanské vysočině a dále vodopád **Iguacú** [iguasú] na řece Iguacú.

**Jezero Titicaca** [tytykaka] se nachází v Andách. Jezero je **sopečného původu**. Najdeme ho v nadmořské výšce 3 812 m, je to **nejvýše položené jezero na světě**. I přes to okolo jezera Titicaca žije **mnoho lidí** – živí se lovem ryb, dále zemědělstvím.



### Otázky a úkoly:

- Které dva vodopády Jižní Ameriky jsou nejznámější?
- Jak se jmenuje nejmohutnější řeka světa a kde pramení?
- Které jezero Jižní Ameriky je nejznámější? Kde se nachází? Proč je tak známé?
- Jak se jmenuje další velká řeka Jižní Ameriky a řeka, se kterou tvoří společné ústí v jedné nížině? O kterou nížinu se jedná?



## Obyvatelstvo

Obyvatelstvo je v Americe *velmi pestré* – najdeme zde *potomky původních obyvatel (indiánů), Evropanů i černochů z Afriky a také míšenců.*



### Otázky a úkoly:

- *Pokus se vysvětlit, proč je složení obyvatelstva v Jižní Americe tak pestré.*

---

---

---



## Regiony Jižní Ameriky

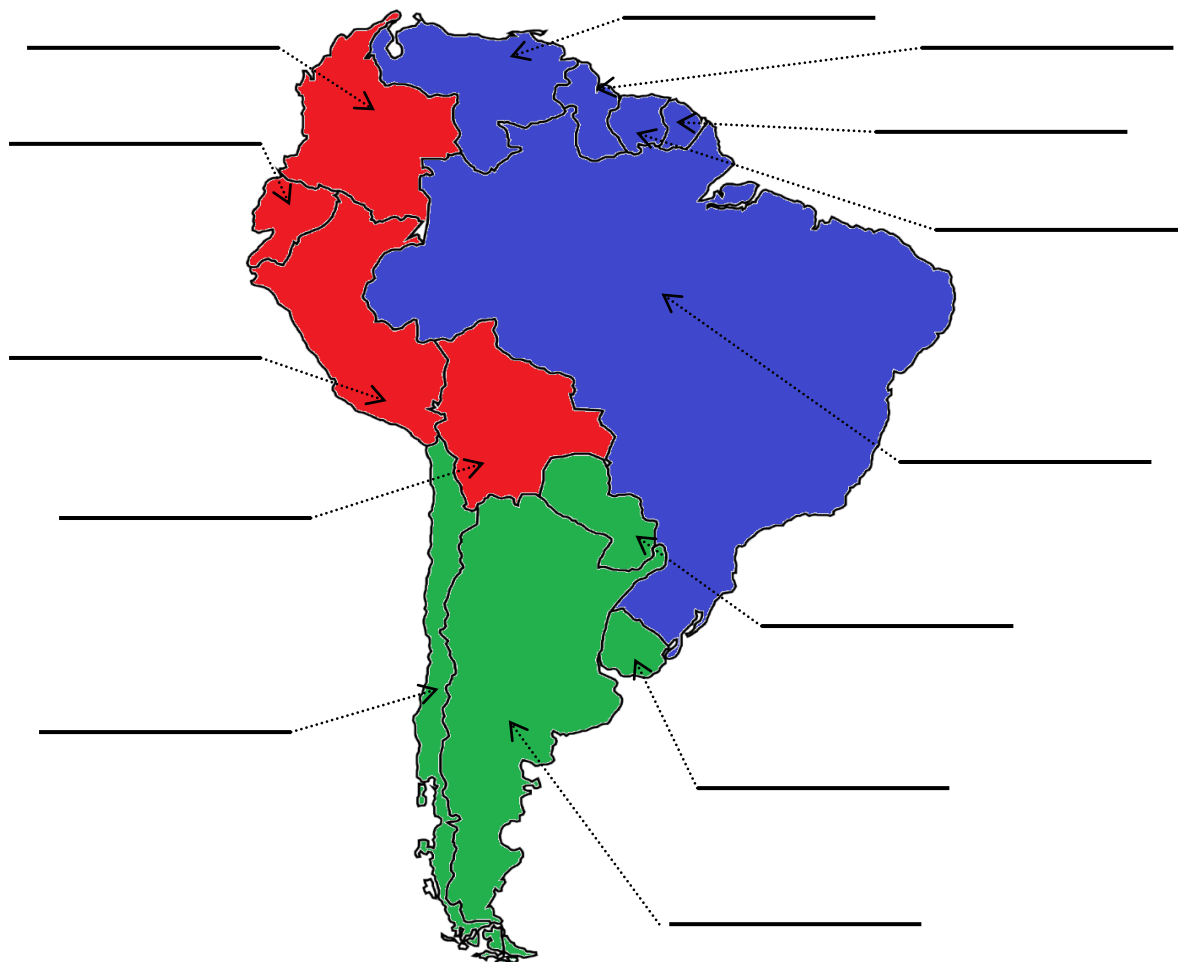
Jižní Amerika se skládá z 3 regionů:

**Andské státy,**

**Brazílie a její sousedi,**

**Země Jižního rohu.**

<b>Kolumbie</b>	<b>Brazílie</b>	<b>Argentina</b>
<b>Ekvádor</b>	<b>Venezuela</b>	<b>Chile</b> [čile]
<b>Peru</b>	<b>Francouzská Guyana</b> [francouzská gvajana]	<b>Uruguay</b> [urugvaj]
<b>Bolívie</b>	<b>Guyana</b> [gvajana]	<b>Paraguay</b> [paragvaj]
	<b>Surinam</b>	



Podle atlasu doplň do mapy názvy států Jižní Ameriky.





## Andské státy

Nachází se v *severní oblasti And*. V horských údolích zde obyvatelé *pěstují kávu, cukrovou třtinu nebo bavlnu*, jsou zde ukryty i *zásoby zlata, ropy a mědi*. Typičtí obyvatelé pro tuto oblast jsou *potomci indiánů a mestici*. V této oblasti se obyvatelé potýkají často se *sopečnou činností*.

Mezi andské státy patří:

**Kolumbie** je chudý zemědělský stát. V horách se těží *zlato a smaragdy*, vyváží se *orchideje a banány*. Rozšířené je *pěstování koky a marihuany*. Problémem je *nelegální vyvážení kokainu* – vláda Kolumbie a USA se snaží tomu zabránit.

**V Ekvádoru** se pěstují tropické rostliny, také se tam lidé žíví *rybolovem*. Vyváží se *ropa* (těží se v deštných lesích na východě státu). Ekvádor znamená ve španělštině rovník. K Ekvádoru patří *souostroví Galapágy* – spousta druhů zvířat pochází odtud.

**Peru** je *chudá země*, velký význam má pro ni *rybolov*. Nachází se na *území bývalé říše Inků* s mnoha památkami.

**Bolívie** je *vnitrozemský stát*. Je to také *jedna z nejchudších zemí Ameriky*. Třetina území leží vysoko v Andách, je tam chladné a suché podnebí. Dříve se v Bolívii těžilo *stříbro*, nyní tam už skoro žádné není. Těží se zde i *cín a ropa, dřevo* a pěstují se zde *brambory, káva, kakaovník a ananasy*. Bolívie má *dvě hlavní města – La Paz a Sucre* [sukre]. La Paz je největší město.



### Otázky a úkoly:

- Co znamená ve španělštině slovo „ekvádor“?
- Co se těží, pěstuje a vyváží v Kolumbii?
- Jak se jmenují dvě hlavní města v Bolívii?
- Co se vyváží z Ekvádoru? Co se tam těží?
- Jaký problém řeší kolumbijská vláda a kdo se jí snaží pomoci?
- Vypiš všechny andské státy: \_\_\_\_\_

- Jak se jmenuje souostroví patřící k Ekvádoru? Zkus najít doma pomocí internetu či encyklopedie nějaká zvířata žijící právě tam: \_\_\_\_\_
- Co se těžilo v Bolívii dříve? Co se tam těží a pěstuje teď?
- Čím se živí obyvatelé Peru?
- Jaké je v Bolívii podnebí?
- Na území jakého státu se dříve nacházela říše Inků? Znáš nějaké památky z Incké říše?



### Brazílie a její sousedé

**Brazílie** je *největší země Jižní Ameriky*. Velká část Brazílie je pokryta *deštným lesem*, také jí protéká *řeka Amazonka*. Mnoho obyvatel žije na jihovýchodním pobřeží a ve vnitrozemí na úrodných plošinách - zde se pěstuje *káva*. Brazílie patří mezi *největší vývozce kávy, cukrové třtiny, železa i ropy*.

V Brazílii se mluví *portugalsky*. Je to nejlidnatější země, kde se takto mluví.

Tři čtvrtiny obyvatel žijí *ve velkých městech*, největší jsou *São Paulo* a *Rio de Janeiro* [rio de žanéro](známé každoročním karnevalem a krásnými plážemi). Hlavní město je *Brasília*. V Brazílii je stále *rozšířena chudoba* – ve velkých městech a kolem nich je mnoho chudinských čtvrtí. Pro chudé obyvatele musí Brazílie dovážet mnoho zboží, také potraviny. Brazílie si musela vypůjčit peníze od ostatních států na dovoz těchto věcí, zadlužila se. Aby mohla dluh splatit, začaly se kácet a ničit amazonské pralesy.

**Venezuela** je jedním z *nejbohatších států Jižní Ameriky* – díky *velkým zásobám ropy* (na severozápadě země), která se vyváží. Díky vývozu má Venezuela finance, které se snaží investovat do vzdělání i bydlení, je zde vysoká životní úroveň. Lidé žijí v moderních městech, ale i přes to v nich najdeme *chudinské čtvrti*. V *Guyanské vysočině* žijí mezi stolovými horami *indiánské kmeny* velmi primitivním způsobem. Zde je nejvyšší *vodopád* světa – *Salto Angel*.

**Guyana, Surinam** a **Francouzská Guyana** jsou tři malé státy *na severovýchodním pobřeží* Jižní Ameriky. Jsou to *bývalé kolonie* Holanďanů, Britů a Francouzů. *Francouzská Guyana je stále zámořským územím Francie*, není tedy samostatným státem. Ve

Francouzské Guyaně je **kosmické středisko**, odtud startují do vesmíru francouzské rakety. V těchto státech (Guyana, Surinam a Francouzská Guyana) se těží a vyváží **bauxit**.



#### Otázky a úkoly:

- Jak se jmenuje řeka protékající Brazílií? Jaký druh lesů najdeme v Brazílii?
- Ve kterém státě se nachází nejvyšší vodopád světa? Jak se jmenuje tento vodopád?
- Co Brazílie vyváží?
- Které tři malé státy jsou bývalá koloniální území? Čí tyto kolonie byly? Kde se tyto státy nachází? Co se v těchto zemích těží?
- Ve kterých velkých městech žijí lidé v Brazílii? Jak se jmenuje její hlavní město?
- Jaký je současný problém v Brazílii?
- Kde ve Venezuele žijí indiáni? Jak?
- Jak se mluví v Brazílii?
- Jaká je finanční situace Venezuely? Díky čemu?
- Která země je dodnes zámořským územím jiného evropského státu? Kterého?
- Která země je největší v Jižní Americe?



#### Země Jižního rohu

Tři sousední země (*Argentině, Paraguayi a Uruguayi*) se někdy nazývají **Laplatské státy** – podle společného ústí řeky Paraná a Uruguay, kterému se říká **La Plata**.

**Paraguay** je jedna z **nejchudších zemí Jižní Ameriky**, obyvatelé se živí **zemědělstvím** a těží **dřevo**.

**Uruguay** je **zemědělský stát**, kde se chová **dobytěk** a **ovce**. Vyváží se **maso, kůže i vlna**. Pěstují se zde **také pomeranče, mandarinky a hroznové víno**. Národní sport je **fotbal**.

**Chile** je **nejdelší a nejúžší země světa**, leží na západních svazích And. Na severu země je **poušť Atacama** [atakama], uprostřed je příjemné **subtropické podnebí**, na jihu jsou **chladné**

*ostrovy a ledovce*. V Andách je zde mnoho *sopek*. Chile patří *k největším vývozcům mědi*, dále vyváží *guano* (trus mořských ptáků). Také se vyváží *víno*. V Chile se obyvatelé věnují *rybolovu*. Dnes je Chile *demokratický stát*, ale až do roku 1990 v Chile vládl vojenský diktátor.

**Argentina** je *druhou největší zemí Jižní Ameriky*. Hlavní město se jmenuje *Buenos Aires*. Argentina patří *mezi vyspělejší země Jižní Ameriky*. Vyváží *hovězí a jehněčí maso, výrobky kožedělného průmyslu a vlnu*. Na severu jsou *pampy*, kde se pěstuje *pšenice* a *chová hovězí dobytek, ovce* se chovají na jihu. Na východních svazích And se pěstuje *ovoce* – především *hroznové víno*. V Argentině žije *více potomků Evropanů*, než původních obyvatel. Evropané sem přišli z chudších zemí Evropy kvůli velké rozloze zemědělské půdy.



#### Otázky a úkoly:

- Jak se jmenuje hlavní město Argentiny?
- Co vyváží Chile?
- Ve které zemi žije mnoho potomků evropských přistěhovalců?
- Kdo vládl v Chile do roku 1990? Zkus najít jeho jméno: \_\_\_\_\_
- Jak se někdy označují státy Uruguay, Paraguay a Argentina?
- V jaké zemi je národní sport fotbal?
- Jakou poušť najdeme v Chile?
- Co se pěstuje a chová v Uruguayi?
- Jaký stát je nejchudší z těchto zemí? Čím se tam obyvatelé živí?
- Která země je nejužší a nejdelší?



## Doplňující úkoly a otázky:

### 1) Poznej, o který stát se jedná, a správně doplň chybějící údaje:

Stát: \_\_\_\_\_

- chudý zemědělský stát, jméno získal po objeviteli Ameriky (jím byl \_\_\_\_\_)
- jedinou úspěšnou firmou z této země je Chiquita [čikyta], tato firma vyváží

\_\_\_\_\_



Stát: \_\_\_\_\_

- název tohoto státu ve španělštině označuje rovnoběžku, která má  $0^\circ$  - je to \_\_\_\_\_
- k tomuto státu patří souostroví \_\_\_\_\_, kde žije mnoho druhů vzácných zvířat – například \_\_\_\_\_

Stát: \_\_\_\_\_

- na území tohoto státu dříve byla Incká říše, mezi památky z té doby, které se dochovaly, patří město Cuzco [kuzko] a Machu Picchu [maču pikču]



*Machu Picchu*

Stát: \_\_\_\_\_

- hlavním městem je Buenos Aires
- nejpopulárnějším sportem v zemi je fotbal

- v tomto státě vznikl tanec tango
- známá žena z dějin této země je Eva Peronová, možná jí znáš z muzikálu, který se jmenuje \_\_\_\_\_

**2) Dovedeš v rébusech odhalit názvy států Jižní Ameriky?**


Zařaď správně tyto státy:

- mezi andské státy patří: \_\_\_\_\_
- do regionu Brazílie a její sousedé patří: \_\_\_\_\_
- mezi Země Jižního rohu patří: \_\_\_\_\_



(sloveso - 1. os., č. j., č. přít.)

\_\_\_\_\_




hlas žáby

anglicky "nebo"

**E** \_\_\_\_\_ **D** \_\_\_\_\_

jednotka plochy (zratka a)	jednotka dědičnosti	<b>TINA</b>
_____	_____	

Cé	Há	<b>ILE</b>
_____	_____	



Kam?

popěvek

\_\_\_\_\_ **EZUE** \_\_\_\_\_

**3) Rozlušti názvy těchto dvou měst:**

Er		Honza		Evropan
_ I O DE		_ _ _ E		_ _ O

	hlas osla	
M	_ _	M I

Jedno z těchto měst leží v Jižní Americe – je to \_\_\_\_\_, leží ve státě \_\_\_\_\_.

**4) Dopln chybějící informace:**

- Guano je \_\_\_\_\_, který se těží a využívá jako hnojivo. Vyváží ho \_\_\_\_\_.
- Gaucho [gaučo] je \_\_\_\_\_.
- Mestici jsou míšenci \_\_\_\_\_.
- Jihoamerickým stepím se říká \_\_\_\_\_.

**5) Z následujících rozpůlených slov slož názvy velkých amerických řek. Celé názvy přepiš na vedlejší linky. Barevně označ řeky, které najdeme v Jižní Americe.**

MAC  
 MISSI  
 MI  
 COLO  
 ORI  
 AMA  
 PAR  
 YU

ANÁ  
 NOCO  
 KON  
 ZONKA  
 SSIPPI  
 SSOURI  
 RADO  
 KENZIE

---



---



---



---



---



---

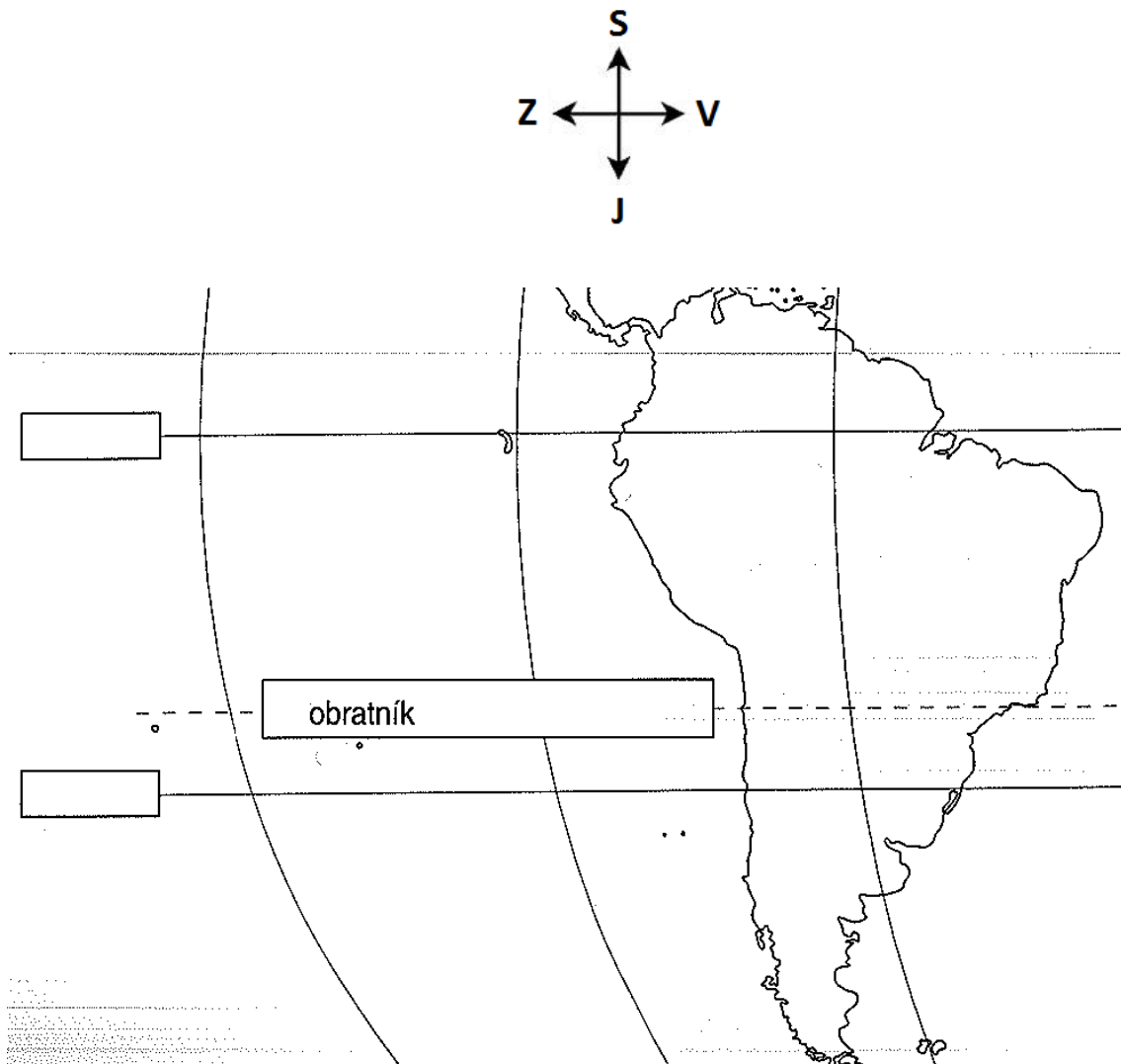


---

6) Spoj správné dvojice:

Atacama	město
Aconcagua	nížina
La Plata	poušť
São Paulo	vodopád
Iguacú	hora

7) Zakresli do mapy Jižní Ameriky povrch kontinentu (hory, nížiny). Jak se mění směrem od západu k východu? Popiš označené rovnoběžky, které kontinentem prochází.







## Shrnutí

### Jižní Amerika

Jižní a Severní Amerika tvoří kontinent \_\_\_\_\_, který je \_\_\_\_\_ největší na světě. Leží na \_\_\_\_\_ polokouli.

Přes celý kontinent se táhne pohoří \_\_\_\_\_, kterému se v Jižní Americe říká \_\_\_\_\_. V nich je i nejvyšší hora celé Ameriky, jmenuje se \_\_\_\_\_. Na jihu Jižní Ameriky se nachází oblast, které se říká \_\_\_\_\_. V ní se díky činnosti \_\_\_\_\_ vyskytuje mnoho ostrovů, fjordů i zálivů.

Velká část Jižní Ameriky se nachází v \_\_\_\_\_ (podnebný pás). V oblasti rovníku najdeme největší deštný les na planetě – jmenuje se \_\_\_\_\_. V současnosti je velkým problémem \_\_\_\_\_ tohoto deštného lesa.

Největší řekou Jižní Ameriky (i celého světa) je \_\_\_\_\_. Pramení v \_\_\_\_\_. Další velkou řekou Jižní Ameriky je řeka \_\_\_\_\_, která spolu s řekou \_\_\_\_\_ tvoří společné ústí v nížině La Plata. Ústí těchto dvou řek se říká \_\_\_\_\_.

Další známou řekou je řeka \_\_\_\_\_.

V Guyanské vysočině, kde se nachází mnoho \_\_\_\_\_ hor, se nachází největší vodopád světa \_\_\_\_\_. Dalším velkým vodopádem je vodopád \_\_\_\_\_ na řece Iguacú.

Vysoko v Andách se nachází jezero \_\_\_\_\_, které je nejvýše položené jezero na světě. Je \_\_\_\_\_ původu.

V Americe (Severní i Jižní) žije velmi pestré obyvatelstvo, najdeme zde \_\_\_\_\_.

### Státy Jižní Ameriky

Kontinent Jižní Amerika se skládá z těchto 3 regionů:

\_\_\_\_\_, \_\_\_\_\_ a \_\_\_\_\_.

Mezi Andské státy patří \_\_\_\_\_, \_\_\_\_\_, \_\_\_\_\_ a \_\_\_\_\_.

Druhý region - \_\_\_\_\_ a její sousedé zahrnuje státy \_\_\_\_\_, \_\_\_\_\_, \_\_\_\_\_ a \_\_\_\_\_.

Země Jižního rohu jsou \_\_\_\_\_, \_\_\_\_\_, \_\_\_\_\_ a \_\_\_\_\_.

### **Andské státy:**

- typičtí obyvatelé jsou potomci indiánů a mesticí
- častý výskyt sopečné činnosti
- pěstování kávy, cukrové třtiny a bavlny, zásoby zlata, ropy a mědi

**Stát \_\_\_\_\_:**

- chudý zemědělský stát
- těžba zlata a smaragdů
- vývoz orchidejí a banánů
- pěstování koky a marihuany, nelegální vývoz kokainu

**Stát \_\_\_\_\_:**

- název státu znamená ve španělštině „rovník“
- rybolov
- vývoz ropy
- patří k němu souostroví Galapágy

**Stát \_\_\_\_\_:**

- chudá země
- na území bývalé říše Inků, kde je nyní mnoho památek
- rybolov

**Stát \_\_\_\_\_:**

- vnitrozemský stát
- jedna z nejchudších zemí Ameriky
- dříve těžba stříbra, nyní cín, ropa a dřevo
- pěstování brambor, kávy, kakaovníku a ananasů
- dvě hlavní města La Paz a Sucre

## **Brazílie a její sousedé:**

**Stát** \_\_\_\_\_:

- největší země Jižní Ameriky
- deštný les
- protéká tu řeka Amazonka
- velký vývozce kávy, cukrové třtiny, železa i ropy
- nejlidnatější země světa, kde se mluví portugalsky
- hlavní město Brasilia, velká města São Paulo a Rio de Janeiro
- rozšířena chudoba, nutnost dovážet potraviny – zadlužený stát

**Stát** \_\_\_\_\_:

- jeden z nejbohatších států Jižní Ameriky
- velký vývozce ropy
- moderní města s chudinskými čtvrtěmi
- Guyanská vysočina, kde žijí indiáni
- nejvyšší vodopád světa Salto Angel

**Státy** \_\_\_\_\_, \_\_\_\_\_ a \_\_\_\_\_:

- bývalé kolonie Britů, Holanďanů a Francouzů
- těží bauxit
- \_\_\_\_\_ je dodnes zámořským územím \_\_\_\_\_, je tam kosmické středisko

## **Země Jižního rohu:**

La Platské státy jsou \_\_\_\_\_, \_\_\_\_\_ a \_\_\_\_\_.

**Stát** \_\_\_\_\_:

- nejdelší a nejužší stát světa
- poušť Atacama na severu, subtropické podnebí uprostřed a chladné ostrovy a ledovce na jihu
- mnoho sopek v Andách
- jeden z největších vývozců mědi
- vývozce guana, vína
- od roku 1990 demokratický stát

**Stát \_\_\_\_\_:**

- druhá největší země Jižní Ameriky
- hlavní město Buenos Aires
- vyspělejší země Jižní Ameriky
- vyváží hovězí a jehněčí maso, výrobky z kůže a vlnu
- pěstuje se zde pšenice a hroznové víno, chová se zde hovězí dobytek a ovce
- žije zde mnoho potomků Evropanů

**Stát \_\_\_\_\_:**

- zemědělský stát – chová se zde dobytek i ovce
- vyváží se maso, kůže a vlna
- pěstují zde pomeranče, mandarinky a hroznové víno
- národní sport fotbal

**Stát \_\_\_\_\_:**

- jedna z nejchudších zemí Jižní Ameriky
- zemědělství, těžba dřeva

### **Použité zdroje:**

DVOŘÁK, J, KOHOUTOVÁ, A. a TAIBR, P. *Zeměpis 7: pro základní školy a víceletá gymnázia*. 1. vyd. Praha: Fraus, 2005, 128 s. ISBN 8072383043.

NOPOVÁ, A. *Letem světem*. 1. vyd. Všeň: Alter, 2006, 60 s. ISBN 8072450670.

TEPLÝ, F., LANGER, J. *Zeměpis: svět : pro druhý stupeň základního vzdělávání pro žáky se sluchovým postižením*. 1. vyd. Praha: Fortuna, 2011, 104 s. ISBN 978-80-7373-099-4.

### **Použité obrázky:**

Obr. s. 3:

Orange Slovensko, a. s.: *O škole* [online]. 2008-2011 [cit. 6. 3. 2013] . Dostupné z: <[http://www.oskole.sk/?id\\_cat=120&clanok=17572](http://www.oskole.sk/?id_cat=120&clanok=17572)>.

Obr. s. 7:

Superia.cz. *Obrázky, kliparty, ilustrace – Velký výběr obrázků zdarma* [online]. 2010 [cit. 6. 3. 2013] . Dostupné z: <[http://obrazky.superia.cz/mapy/mapa\\_jizni\\_ameriky-1280.php](http://obrazky.superia.cz/mapy/mapa_jizni_ameriky-1280.php)>.

Obr. s. 12:

Logo. *Chiquita* [online]. 2013 [cit. 6. 3. 2013] . Dostupné z: <<http://logok.org/chiquita/>>.

GypsyEntrepreneur.com: *GypsyEntrepreneur – Tanya Lopez* [online]. 2013 [cit. 6. 3. 2013] . Dostupné z: <<http://www.gypsyentrepreneur.com/machu-picchu/>>.

Obr. s. 15:

KOHOUTOVÁ, A. *Zeměpis 7: pro základní školy a víceletá gymnázia*. 1. vyd. Praha: Fraus, 2005, 52 s. ISBN 8072383051.